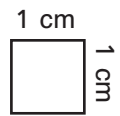

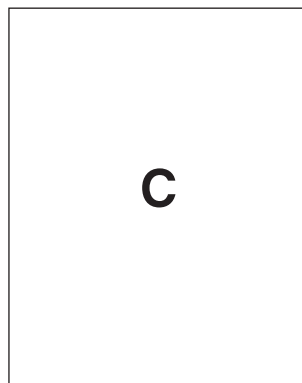



## Flächeninhalt (1)

Da alle Seiten des Quadrates 1 cm lang sind, nennt man es auch Quadratzentimeter.



- 1 Schneide die Quadratzentimeter aus und lege die Flächen aus. Trage in die Tabelle ein.
- 2 In welche Flächen passen die meisten Quadratzentimeter? \_\_\_\_\_



Figur	Anzahl der Quadratzentimeter
A	
B	
C	
D	
E	
F	
G	
H	

Quadratzentimeter zum Ausschneiden:

